

A-EXAMEN

THEORIE

Slagwerk

2018

kaliber
kunstenschool

Naam: _____

Vraag Op de band staan 7 noten. Luister goed of de gespeelde noot lager, hoger of gelijk is aan de voorafgaande noot.

1

Noot 2 is lager hoger gelijk dan noot 1

Noot 3 is lager hoger gelijk dan noot 2

Noot 4 is lager hoger gelijk dan noot 3

Noot 5 is lager hoger gelijk dan noot 4

Noot 6 is lager hoger gelijk dan noot 5

Noot 7 is lager hoger gelijk dan noot 6

/ 6

Vraag Je hoort het begin van een liedje van Sting (When We Dance)

2

A: de dynamiek van het begin noemen we:

Crescendo

Fortissimo

Diminuendo

B: de maatsoort is:

3/4

4/4

6/8

C: Het tempo van het liedje is:

Presto

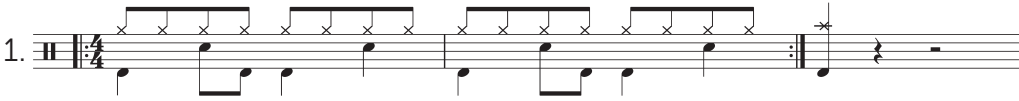
Andante

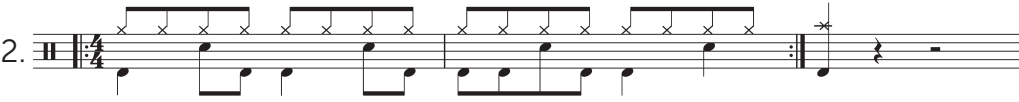
Grave


/ 6

Vraag Welke van de onderstaande ritmes wordt gespeeld?

3

1. 

2. 

3. 

/ 4

Vraag Je hoort vier stukjes muziek. Zet ze in de juiste volgorde:
Drums - Sambagroep - Conga`s - Drumband

4

1. _____ 2. _____

3. _____ 4. _____

/ 4

Vraag Je hoort een ritme tikken. Welke van de drie is de juiste?

5










/ 2


Vraag De docent speelt een ritme voor, noteer dit ritme in notenschrift:

6

1. 

2. 

3. 

4. 

/ 8



Totaal / 30

Vraag Noem 2 verschillende „speelmannieren“ (stokhouding) waarop je de snaredrum kunt bespelen:

1

1. _____ 2. _____

Noem 4 verschillende muziekstijlen:

1. _____ 2. _____

3. _____ 4. _____

■ / 4

Vraag Een muziekstuk wordt onderverdeeld in kleine stukjes

2

Hoe heet zo'n stukje? _____

Een 3/4 maat is **enkelvoudig / samengesteld** en **tweedelig / driedelig**

Een 6/8 maat is **enkelvoudig / samengesteld** en **tweedelig / driedelig**

■ / 3

Vraag Als er een kruis voor een noot staat dan komt er **is / es** achter de naam.

3

Een mol **verhoogt / verlaagt** een 1/2 toon.

■ / 2

Vraag Noem 7 onderdelen van het drumstel

4

1. _____ 2. _____

3. _____ 4. _____

5. _____ 6. _____

7. _____

■ / 7

Vraag Waarvan is **D.C.** een afkorting en wat betekent het?

5

Waarvan is **D.S.** een afkorting en wat betekent het?

Dit teken \oplus heet: _____

/ 3

Vraag Noem de dynamische tekens van zeer sterk naar zeer zacht

6

fff _____ ppp

Welk woord hoort in dit rijtje niet thuis?

mezzo piano fortissimo andante crescendo

Noem 2 voorbeelden van stabiele dynamiek:

/ 5

Vraag Schrijf de volgende roffel op:

7

1. Roffel van 5: _____

2. Roffel van 9 _____

/ 2

Vraag In een 4/4 maat duurt de halve noot 2 tellen.

8

Hoelang duurt dan een achtste rust? _____


In een 6/8 maat duurt de achtste noot 1 tel.

Hoelang duurt dan een kwart rust? _____

/ 2

Vraag Schrijf de juiste handzetting (stokvoering) onder de noten:


9



/ 4

Vraag Zet hier de maatstrepen zodanig dat het een 3/4 maat wordt

10



/ 2

Vraag Geef de Nederlandse betekenis van de volgende woorden.

11

moderato _____ presto _____

/ 1



INZICHTVRAGEN

De vreemde fluitist

The image shows a musical score for a flute piece titled "De vreemde fluitist". The tempo is marked "andante". The score is written in treble clef with a key signature of one sharp (F#). It consists of two staves. The first staff starts at measure 0 and ends at measure 3. The second staff starts at measure 4 and ends at measure 6. There are dynamic markings: *mf* at measure 0, *f* at measure 2, and *f* at measure 4. There are also articulation marks like accents and slurs. The piece ends with a double bar line at measure 6.

Punten

Vraag Wat is de maatsoort van "De vreemde fluitist"?

1

- a. 4/4 b. 6/8 c. 2/2

/ 2

Vraag Hoe noemen we het begin (maat 0) van dit liedje?

2

- a. een opmaat b. een overmaat c. een ondermaat

/ 2

Vraag

3

Zet hieronder de volgorde waarin je de stukjes (A.B.C.D.E en F.) speelt

A _____

/ 4

Vraag

Je ziet hieronder de toonladder van C Majeur.

Schrijf onder elke noot de juiste naam

4

/ 8

Vraag

5

f is de afkorting van _____

en betekent _____

mf is de afkorting van _____

en betekent _____

cresc is de afkorting van _____

en betekent _____

/ 3

Vraag

Wat doet en kruis # met een noot?

de noot wordt hoger

de noot wordt lager

6



Deze sleutel noemen we de _____ sleutel; hij geeft de toon _____ aan.



Deze sleutel noemen we de _____ sleutel; hij geeft de toon _____ aan.

/ 5

Vraag Hoe vaak moet je maat 4 spelen?

7

1 / 2

Vraag Het tempo van dit stukje is **andante**

8

Dit betekent: langzaam rustig snel

Als dit stukje zeer langzaam gespeeld moet worden staat er _____
boven.

1 / 2

Vraag De eerste noot van maat 5 duurt:

9

_____ tellen

Hoe lang duurt deze noot in een 4/4 maat?

1 / 3

Vraag Een punt achter de noot maakt die noot:

2 x zo lang de helft langer de helft korter

De 1ste noot van maat 5 duurt dus: (let op de maatsoort)

a) 1½ tel b) 3 tellen c) 6 tellen

1 / 4



Naam: _____

Docent: _____

Instrument: _____

In te vullen door docent

Aantal punten: _____

Cijfer: _____

Geslaagd: _____