

C-EXAMEN THEORIE Slagwerk 2018

kaliber
kunstenschool

Naam: _____

LUISTERVRAGEN



Punten

Vraag

Je hoort twee verschillende drieklanken. Geef aan of je een majeur of mineur drieklank hoort.

1

1. Majeur Mineur

2. Majeur Mineur

/ 4

Vraag

Je hoort 3 toonladders. Geef aan welke je hoort. Je kunt kiezen uit:

2

1. Majeur Mineur Chromatische

2. Majeur Mineur Chromatische

3. Majeur Mineur Chromatische

/ 6

Vraag

Je hoort nu 3 intervallen. Geef aan of het interval een kleine terts, een grote terts of een octaaf is.

3

1. Kleine terts Grote terts Octaaf


2. Kleine terts Grote terts Octaaf

3. Kleine terts Grote terts Octaaf

/ 3

Vraag De docent speelt vier ritmes voor. Schrijf dit in notenschrift hieronder op.

4



Four musical staves are shown, each with a 2/4 time signature and a single note on the first line of the staff. The notes are quarter notes.

/ 12

Vraag Kruis hieronder het juiste antwoord aan.

5

1. Je hoort het begin van Softly as in the morning sunrise, gespeeld door Kenny Barron (piano) en Regina Carter (viool).

In welke maatsoort staat dit stuk?

7/8

9/8

2/2

2. Je hoort het begin van A la belle epoque van Jean-Michel Simonis. Dit wordt gespeeld door een:

Fanfare-orkest

Blazersensemble

Symfonie-orkest

3. Je hoort het liedje ' The Goodbye Look' van Donald Fagon. Welk ritme speelt de drummer?

Rock

Bossa Nova

Pop Samba

/ 5



Totaal / 30

LEERVragen

Punten

Vraag Wat betekent antimetrisch?

1

Wat zijn de verschillen tussen een sextool en een dubbele trioool?

/ 2

Vraag

1. Schrijf de toonladder van C Majeur op

2

2. Hoe heet de paralleltoonladder (mineur) van C?

_____ mineur

3. Schrijf deze toonladder hier op

4. welke mineur toonladders ken je nog meer en hoe noem je deze?:

a. _____

b. _____

/ 5

Vraag

Vul de juiste intervallen onder de tonen die je hieronder ziet.

3



/ 4

Vraag Uit welke tonen / intervallen bestaan een grote drieklank?

4

Noem de noten van de grote drieklank van C

Noem de noten van de kleine drieklank van C

■ / 5

Vraag De eis is enharmonisch gelijk aan

5

De dis is enharmonisch gelijk aan

De des is enharmonisch gelijk aan


De eses is enharmonisch gelijk aan

■ / 2

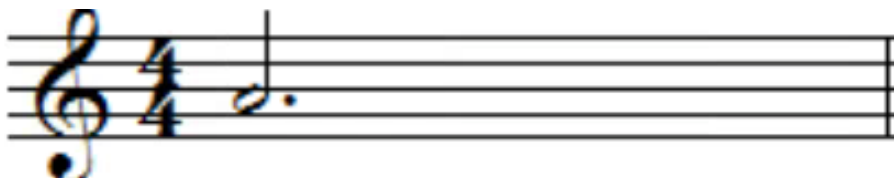
Vraag Wat is een duool?

6

Maak deze 3/4 maat volledig met een trioool.



Maak deze 4/4 maat volledig met een kwintool.



■ / 3

Vraag Orkestscholing

Noem van de volgende instrumentengroepen twee instrumenten die bij die groep horen:

7

Houten blaasinstrumenten

1. _____ 2. _____

Koperen blaasinstrumenten:

1. _____ 2. _____

Slaginstrumenten (met toonhoogte):

1. _____ 2. _____

Slaginstrumenten (zonder toonhoogte):

1. _____ 2. _____

Noem een 'bes' instrument: _____

Noem een 'Es' instrument: _____

Noem een 'C' instrument: _____

■ / 11

Vraag Geef de Nederlandse betekenis van:

8


Gracioso _____ Dolce _____

L'istesso tempo _____ Feroce _____

Noem een regelmatige maatsoort

Noem een onregelmatige maatsoort

■ / 3



Totaal ■ / 35

INZICHTVRAGEN

Melodie van de taiga

8 1. 2.

15 *D.S. al Coda*

Punten

Vraag De toonsoort van 'Melodie' van de taiga is _____

1

Majeur

Mineur

/ 2

Vraag De noten uit maat 1 en 2 vormen samen het akkoord _____

2

Majeur

Mineur

/ 1

Vraag Hoe heten de intervallen die zijn ontstaan in:

3

Maat 1 _____

Maat 11 _____

□ / 2

Vraag Er zijn 2 maten waarvan het aantal tellen niet klopt in de "Melodie van de taiga".
Zoek ze op en verbeter ze in het stukje.

4

□ / 4

Vraag Geef de Italiaanse naam en de Nederlandse betekenis van de dynamische tekens uit het stukje.

5

Italiaanse naam

Nederlandse betekenis

_____ = _____

_____ = _____

_____ = _____

_____ = _____

_____ = _____

□ / 5

Vraag Wat betekent het worde rit. in maat 19?
(de volledige naam en de Nederlandse betekenis)

6

rit. is de afkorting van

en betekent

Vraag Als je de "melodie van de taiga" helemaal speelt, bestaat het stukje uit _____ maten.

7

/ 2

Vraag Hoe heten de antimetrische figuren in maat 5 en 7?

8

Andante

mp

p

f

/ 2

Vraag wat betekent het als en maatsoort „binair“ of „ternair“ is?

9

de binaire maatsoort is _____

en de ternaire maatsoort is _____

geef voorbeelden van de volgende maatsoorten (elk maatsoort een):

enkelvoudig binair: _____ samengesteld binair: _____

enkelvoudig ternair: _____ samengesteld ternair: _____

/ 6

Vraag

je ziet hier de toonsoorten met kruisen en mollen door elkaar staan. Zet deze in de juiste volgorde.

10

Ges / F / Es / A / G / Des / E / As / B / D / Fis / Bes



1 kruis 2 kruizen 3 kruizen 4 kruizen 5 kruizen 6 kruizen

1 mol 2 mollen 3 mollen 4 mollen 5 mollen 6 mollen

/ 6

Vraag

Je ziet hier twee onregelmatige maatsoorten door elkaar staan. Zet in elke maat het juiste maatcijfer:

11

/ 4

Totaal / 35



Naam: _____

Docent: _____

Instrument: _____

In te vullen door docent

Aantal punten: _____

Cijfer: _____

Geslaagd: _____